

Sujet élaboré par le centre interdépartemental de gestion de la grande couronne,
le centre interdépartemental de gestion de la petite couronne
et le centre départemental de gestion de Seine-et-Marne

CONCOURS EXTERNE, INTERNE ET DE 3^{ème} VOIE D'ADJOINT TECHNIQUE TERRITORIAL PRINCIPAL DE 2^{ème} CLASSE

SESSION 2018

ÉPREUVE DE QUESTIONS

ÉPREUVE D'ADMISSIBILITÉ :

Une épreuve écrite consistant en la vérification, au moyen d'une série de questions à réponses courtes ou de tableaux ou graphiques à constituer ou à compléter, des connaissances théoriques de base du candidat dans la spécialité au titre de laquelle il concourt.

Durée : 1 heure

Coefficient : 2

SPÉCIALITÉ : ESPACES NATURELS, ESPACES VERTS

À LIRE ATTENTIVEMENT AVANT DE TRAITER LE SUJET :

- ♦ Vous ne devez faire apparaître aucun signe distinctif dans votre copie, ni votre nom ou un nom fictif, ni initiales, ni votre numéro de convocation, ni le nom de votre collectivité employeur, de la commune où vous résidez ou du lieu de la salle d'examen où vous composez, ni nom de collectivité fictif non indiqué dans le sujet, ni signature ou paraphe.
- ♦ Sauf consignes particulières figurant dans le sujet, vous devez impérativement utiliser une seule et même couleur non effaçable pour écrire et/ou souligner. Seule l'encre noire ou l'encre bleue est autorisée. L'utilisation de plus d'une couleur, d'une couleur non autorisée, d'un surligneur pourra être considérée comme un signe distinctif.
- ♦ L'utilisation d'une calculatrice de fonctionnement autonome et sans imprimante est autorisée.
- ♦ Le non-respect des règles ci-dessus peut entraîner l'annulation de la copie par le jury.
- ♦ Les feuilles de brouillon ne seront en aucun cas prises en compte.

Ce dossier de 14 pages est un support de travail. Par conséquent toutes vos réponses devront figurer sur ce dossier que vous agraferez dans votre copie.

Il appartient au candidat de vérifier que le sujet comprend le nombre de pages indiqué.
S'il est incomplet, en avertir le surveillant.

- Vous répondrez aux questions directement sur le sujet dans l'ordre qui vous convient.
- Les réponses peuvent se présenter sous forme de phrases rédigées, de tableaux, de graphiques, de schémas.

Question 1 (1 point)

a/ A quoi sert l'azote pour le végétal ?

.....

.....

.....

.....

.....

.....

b/ Comment corriger une carence en azote sur un massif de végétaux ?

.....

.....

.....

.....

.....

Question 2 (2 points)

a/ Quels critères permettent de reconnaître un bon terreau ? (Trois éléments de réponse attendus)

.....

.....

.....

.....

.....

b/ Dans le tableau ci-dessous, mettez une croix dans la bonne colonne.

	Vrai	Faux
Un terreau de bonne qualité est de couleur sombre, presque noir		
Sa consistance (on parle de granulométrie) doit être fine		
Un bon terreau reste sous la forme d'une boule compacte		
À l'usage, un bon terreau doit se réhydrater rapidement et facilement		
Un terreau est composé essentiellement de fibres de bois broyées		

Question 3 (2 points)

a/ Qu'est-ce qu'une noue ?

.....
.....
.....
.....
.....
.....
.....

b/ Expliquez son fonctionnement.

.....
.....
.....
.....
.....
.....
.....

Question 4 (1,5 point)

a/ Donnez trois exemples de déchets verts.

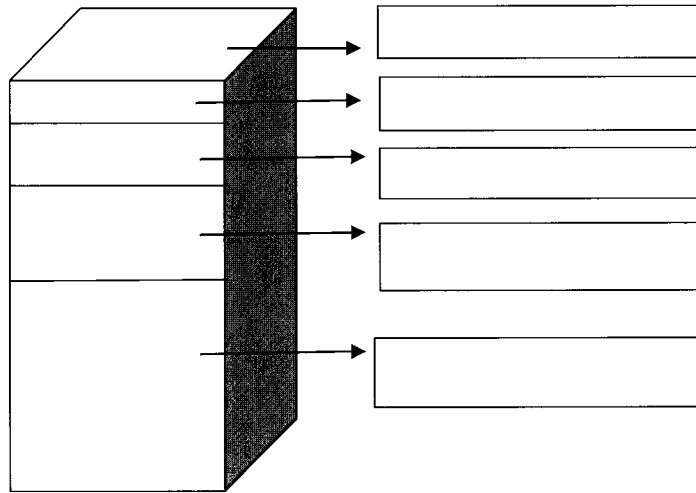
.....
.....
.....
.....

b/ Proposez trois voies de recyclage des déchets verts.

.....
.....
.....
.....

Question 5 (3 points)

a/ Complétez la coupe de sol ci-dessous en précisant, dans les cases blanches, les différentes couches qui le composent.



b/ Le sol est peuplé d'êtres vivants ; citez-en trois.

.....
.....
.....
.....

c/ Quelles sont leurs actions dans le sol ? (Trois éléments de réponse attendus)

.....
.....
.....
.....

Question 6 (2,5 points)

a/ Pourquoi faut-il tailler les haies ? (Trois éléments de réponse attendus)

.....

.....

.....

.....

.....

.....

.....

.....

.....

.....

.....


.....

.....

.....

.....

b/ Inscrivez sous chaque photo la bonne légende : « haie plessée », « taille en topiaire », « palmettes horizontales », « palissage d'arbustes ».



--	--



--	--

Question 7 (2,5 points)

a/ Votre service des espaces verts pratique la gestion différenciée. Qu'est-ce que cela signifie ?

.....
.....
.....
.....
.....
.....
.....

b/ Citez trois avantages de cette gestion différenciée.

.....
.....
.....
.....
.....
.....

Question 8 (1,5 point)

Pourquoi dit-on que les végétaux jouent un rôle de « climatiseur urbain » ? (Deux éléments de réponse attendus)

.....
.....
.....
.....
.....
.....

Question 9 (1,5 point)

Le travail dans un service des espaces verts comporte des tâches répétitives et les troubles musculo-squelettiques sont fréquents. Faites trois propositions d'action préventive pour limiter ces inconvénients.

.....
.....
.....
.....

.....
.....


Question 10 (1,5 point)

Vous devez couper des branches à l'aide d'une tronçonneuse. Citez trois équipements de protection individuelle que vous allez utiliser. Vous justifierez l'emploi de chacun de ces équipements en précisant le risque associé.


.....
.....
.....
.....
.....
.....
.....
.....
.....
.....
.....

Question 11 (2 points)

Indiquez sous la photo le nom de chaque végétal.



--	--



--	--

QUESTIONS DE CALCUL, D'HYGIENE ET DE SECURITE

Question A (3 points)

Un produit chimique peut être amené à se détériorer.

a/ Citez trois facteurs extérieurs de détérioration.

.....
.....
.....
.....

b/ Citez trois recommandations pour le stockage des produits chimiques.

.....
.....
.....
.....

Question B (1 point)

Pourquoi le nettoyage des mains à l'aide de solvants (alcool, acétone, white spirit, etc.) ou d'essence est-il absolument à proscrire ?

.....
.....
.....
.....

Question C (2 points)

a/ Mentionnez deux signes de dégradation des gants de travail.

.....
.....
.....
.....









b/ Pourquoi est-il nécessaire de laver les gants de travail ?

.....
.....
.....
.....

Question D (2 points)

Certaines situations de travail comportent un risque potentiel pour la santé des travailleurs si les mesures de prévention nécessaires ne sont pas mises en œuvre.

Associez la situation et le risque potentiel en reportant le numéro choisi dans la case correspondante.

Environnement professionnel	Risque potentiel
 <p>Port de charges</p>	
 <p>Travail informatisé</p>	
 <p>Vibrations mécaniques</p>	
 <p>Exposition aux poussières</p>	
 <p>Températures extrêmes</p>	
 <p>Bruit</p>	
	
 <p>Agents chimiques dangereux</p>	

1 Trouble ou perte de l'audition

2 Dermatose, maladie pulmonaire

3 Burnout, dépression
(risques psycho-sociaux)

4 Troubles musculo-squelettiques des membres supérieurs, pathologies de la colonne vertébrale

5 Syndrome du canal carpien
(trouble musculo-squelettique)

6 Lombalgie, sciatique, « syndrome des vibrations »

7 Inflammation des muqueuses nasale, de la trachée, fibrose pulmonaire

8 Epuisement, fatigue, insolation

Question E (1 point)

Que signifient les sigles suivants ?

- CMR :

.....
.....

- CHSCT :

.....
.....

Question F (3 points)

Le Maire reçoit 5 personnes pour le déjeuner. Pour cette occasion, il souhaite une tarte en dessert.

Voici les ingrédients nécessaires pour 4 personnes :

- 250 g de farine
- 5 g de sel
- 150 g d'eau
- 200 g de beurre

a/ À quel volume, en centilitres, correspond la quantité d'eau donnée dans la recette ?

.....
.....
.....
.....
.....
.....

b/ Remplissez le tableau en indiquant les quantités nécessaires pour la recette de la tarte, pour le nombre de convives concernés.

	g	kg
farine		
sel		
eau		
beurre		

Question G (3 points)

Un peintre doit restaurer deux cadres de tableaux suivant les schémas de l'annexe (question G).

a/ Calculez la surface à peindre du cadre R.

.....
.....
.....
.....
.....
.....
.....
.....
.....
.....

b/ Calculez la surface à peindre du cadre C.

.....
.....
.....
.....
.....
.....
.....
.....
.....
.....

c/ Calculez la quantité de peinture nécessaire pour les deux cadres. On prendra en moyenne un rendement de peinture de $10\text{m}^2/\text{l}$. Le résultat sera donné en centilitre au centième près.

.....
.....
.....
.....
.....
.....
.....
.....
.....
.....

Question H (2 points)

a/ Lors de son recensement en 1970, la ville de Techniville comptait 12 542 habitants. En 2000, la ville comptait 9 877 habitants. Quel est le pourcentage de perte d'habitants entre 1970 et 2000 ? Le résultat sera donné au centième près.

.....
.....
.....
.....
.....
.....
.....
.....
.....
.....

b/ Actuellement la ville connaît un essor considérable et les prévisions pour 2020 font état d'une hausse de 22 % de la population par rapport à 2000. Quel sera le nombre d'habitants en 2020 ?

.....
.....
.....
.....
.....
.....
.....
.....
.....
.....

Question I (1 point)

Votre directeur vous demande d'aller livrer du matériel dans la ville A. Vous regardez sur une carte où se trouve la ville A et vous mesurez 7 cm.
L'échelle de la carte est de 1/400 000.

Combien de km séparent la ville A de votre point de départ ?

.....
.....
.....
.....
.....
.....
.....
.....
.....
.....

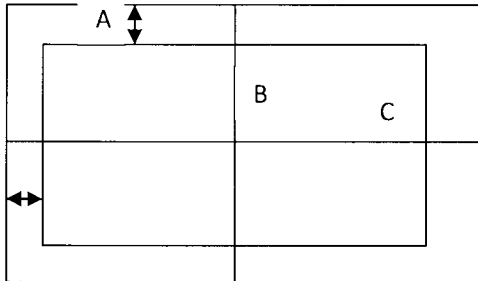
Question J (1 point)

Combien de temps mettrez-vous pour parcourir 20 km en roulant en moyenne à 70 km/h ?
Vous donnerez le résultat ainsi que tous les calculs intermédiaires en heures, minutes, secondes.

.....
.....
.....
.....
.....
.....
.....
.....

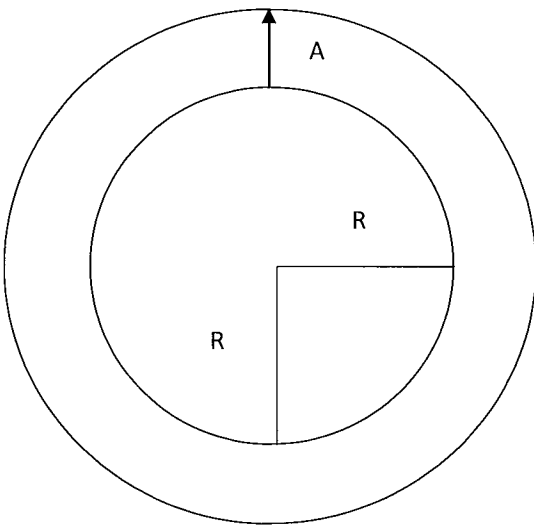
ANNEXE - QUESTION G

Cadre R



A = 10 cm
B = 80 cm
C = 120 cm

Cadre C



A = 10 cm
R = 40 cm